

## ИНДИВИДУАЛЬНЫЙ ШИФР

**1**

Монумент Победы находится на Поклонной горе. Высота монумента – 141 метр 80 сантиметров. Каждые 10 сантиметров символизируют один день Великой Отечественной войны.

► Посчитайте, сколько дней длилась Великая Отечественная война. Впишите ответ.



ОТВЕТ:

ДНЕЙ

## 2

В декабре 1941 года враг был остановлен у стен столицы. В честь этого памятного события учреждена медаль «За оборону Москвы».

► Рассмотрите лицевую и оборотную стороны медали. Впишите цифры в пустые колонки таблицы с описанием медали. Используйте слова для справок.



**ОПИСАНИЕ МЕДАЛИ «ЗА ОБОРОНУ МОСКВЫ»**

СТОРОНА МЕДАЛИ	НАДПИСЬ	ИЗОБРАЖЕНИЕ
ЛИЦЕВАЯ	<input type="text"/>	ФЛАГ С СЕРПОМ И МОЛОТОМ, ПЯТЬ САМОЛЁТОВ, ПАМЯТНИК МИНИНУ И ПОЖАРСКОМУ, ТАНК Т-34 С БОЙЦАМИ
ОБОРОТНАЯ	ЗА НАШУ СОВЕТСКУЮ РОДИНУ	<input type="text"/>

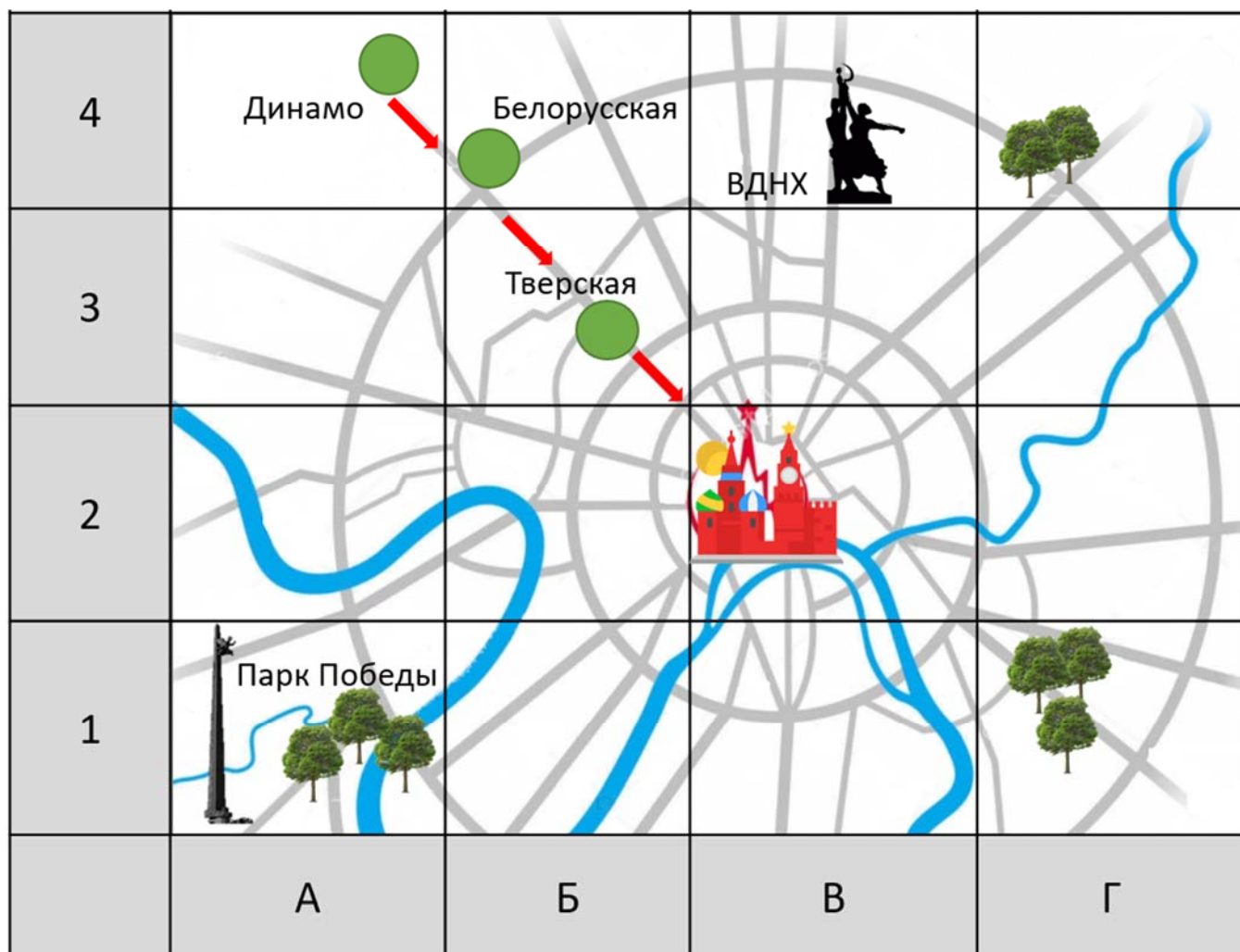
СЛОВА ДЛЯ СПРАВОК:

ЗА ОБОРОНУ СТОЛИЦЫ	<b>1</b>
ЗА ОБОРОНУ МОСКВЫ	<b>2</b>
КРЕМЛЁВСКАЯ СТЕНА	<b>3</b>
СЕРП И МОЛОТ	<b>4</b>

3

«Бессмертный полк» – это общественная акция, которая проводится в память об участниках Великой Отечественной войны. Маршрут шествия: от метро «Динамо» к Белорусскому вокзалу по Тверской улице до Красной площади.

► Восстановите маршрут шествия с помощью карты. Начните движение с квадрата А4. Заполните таблицу.



ОБЪЕКТЫ	КВАДРАТ НА КАРТЕ
Станция метро «Динамо»	А4
Станция метро «Белорусская»	
Станция метро «Тверская»	
Красная площадь	

# 4

Солдатские письма-треугольники складывались из тетрадного листа. Сначала лист сгибали справа налево, потом слева направо. Часть листа со сложенными уголками вкладывали внутрь треугольника для скрепления письма.

► Выберите схему с правильным порядком складывания письма-треугольника. Впишите в квадрат знак .

СХЕМА 1

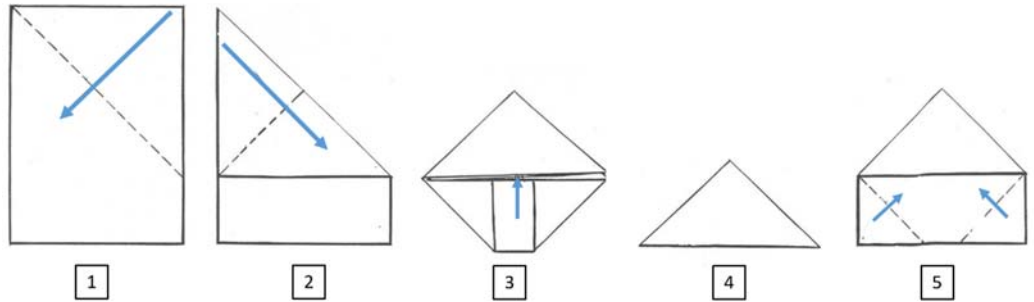


СХЕМА 2

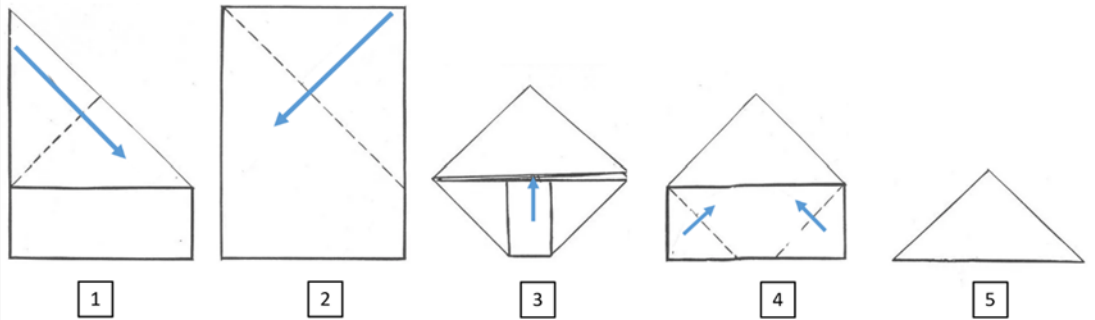


СХЕМА 3

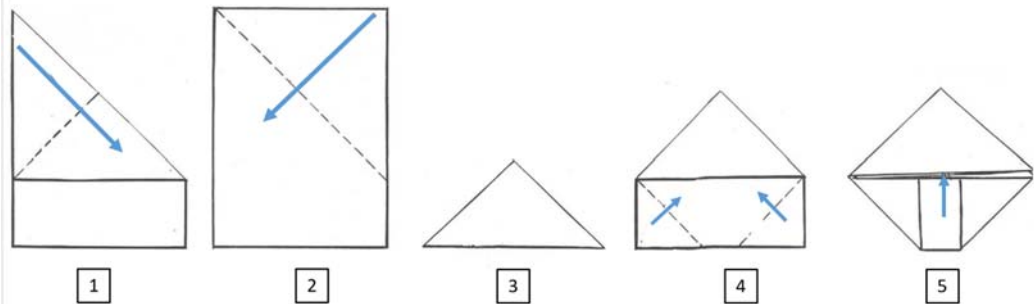
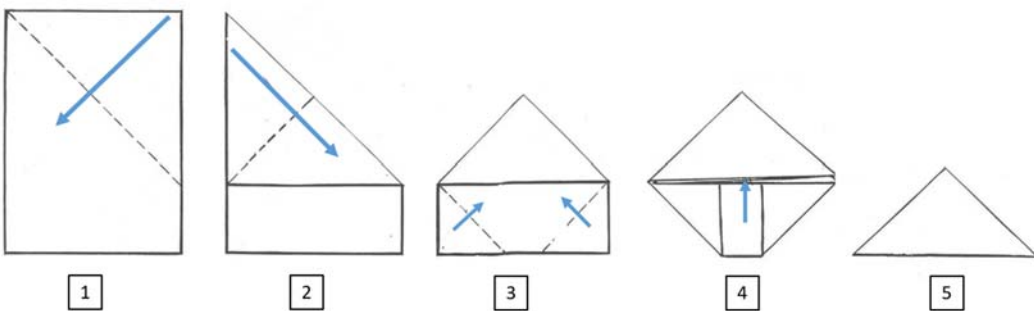


СХЕМА 4




5

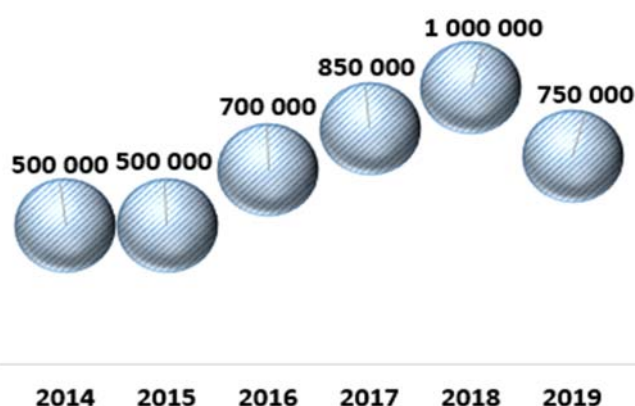
Шествие «Бессмертный полк» проходит в Москве с 2015 года. В 2018 году один миллион человек стал участником шествия. Проливной дождь 2019 года не помешал 750 тысячам россиян пройти по Красной площади с портретами воевавших родственников.

► Выпишите название диаграммы, которая соответствует количеству участников шествия «Бессмертный полк» в 2015–2019 годах.

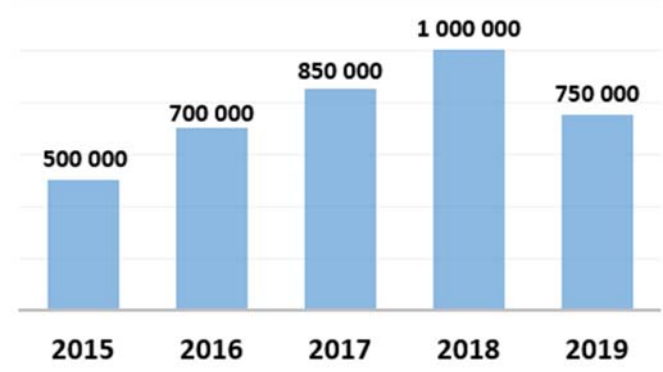
ЛИНЕЙЧАТАЯ



ТОЧЕЧНАЯ



СТОЛБЧАТАЯ



КРУГОВАЯ



ОТВЕТ:

ДИАГРАММА

6

Лучшие фильмы о Великой Отечественной войне – это настоящие шедевры кино. Кинематографические истории о героической победе учат мужеству и верности, рассказывают о дружбе и любви.

► Определите закономерность во времени показа фильмов в кинотеатре. Напишите время начала сеанса фильма «Судьба человека».

АФИША И НАЗВАНИЕ ФИЛЬМА	ВРЕМЯ НАЧАЛА СЕАНСА
 <p>БАЛЛАДА О СОЛДАТЕ</p>	<p>13 часов 00 минут</p>
 <p>В БОЙ ИДУТ ОДНИ «СТАРИКИ»</p>	<p>14 часов 40 минут</p>
 <p>БЕЛОРУССКИЙ ВОКЗАЛ</p>	<p>16 часов 20 минут</p>
 <p>СУДЬБА ЧЕЛОВЕКА</p>	<p><input type="text"/> часов <input type="text"/> минут</p>

## 7

Звание «крепость-герой» присвоено Брестской крепости. Звание «город-герой» присвоено 12 городам. Города прославились героической обороной во время Великой Отечественной войны.

► Ответьте на вопросы, используя информацию в таблице.

	НАЗВАНИЕ ГОРОДА-ГЕРОЯ	ГОД ПРИСВОЕНИЯ ЗВАНИЯ	ГОСУДАРСТВО ГОРОДА-ГЕРОЯ
1	Брестская крепость	1965	 Белоруссия
2	Волгоград	1965	 Россия
3	Киев	1965	 Украина
4	Ленинград	1965	 Россия
5	Москва	1965	 Россия
6	Одесса	1965	 Украина
7	Севастополь	1965	 Россия
8	Керчь	1973	 Россия
9	Новороссийск	1973	 Россия
10	Минск	1974	 Белоруссия
11	Тула	1976	 Россия
12	Мурманск	1985	 Россия
13	Смоленск	1985	 Россия

- 1 Каким городам присвоено звание «город-герой» раньше других городов? Напишите название одного города.
  - \_\_\_\_\_
  
- 2 Каким городам присвоено звание «город-герой» к сороковой годовщине празднования Победы? Напишите названия двух городов.
  - \_\_\_\_\_
  - \_\_\_\_\_
  
- 3 На территории каких государств находятся города-герои? Напишите названия трёх государств.
  - \_\_\_\_\_
  - \_\_\_\_\_
  - \_\_\_\_\_

# 8

В историю Великой Отечественной войны вошли несколько главных сражений. Датой завершения битвы за Москву считается 20 апреля 1942 года. Германская армия потерпела поражение под Сталинградом 2 февраля 1943 года. Сражение на Курской дуге завершилось 23 августа 1943 года.

► Напишите даты главных сражений Великой Отечественной войны на «ленте времени». Дата окончания Великой Отечественной войны указана.

## 1941

					июнь	июль	август	сент	окт	нояб	дек

## 1942

янв	февр	март	апр	май	июнь	июль	август	сент	окт	нояб	дек

## 1943

янв	февр	март	апр	май	июнь	июль	август	сент	окт	нояб	дек

## 1945

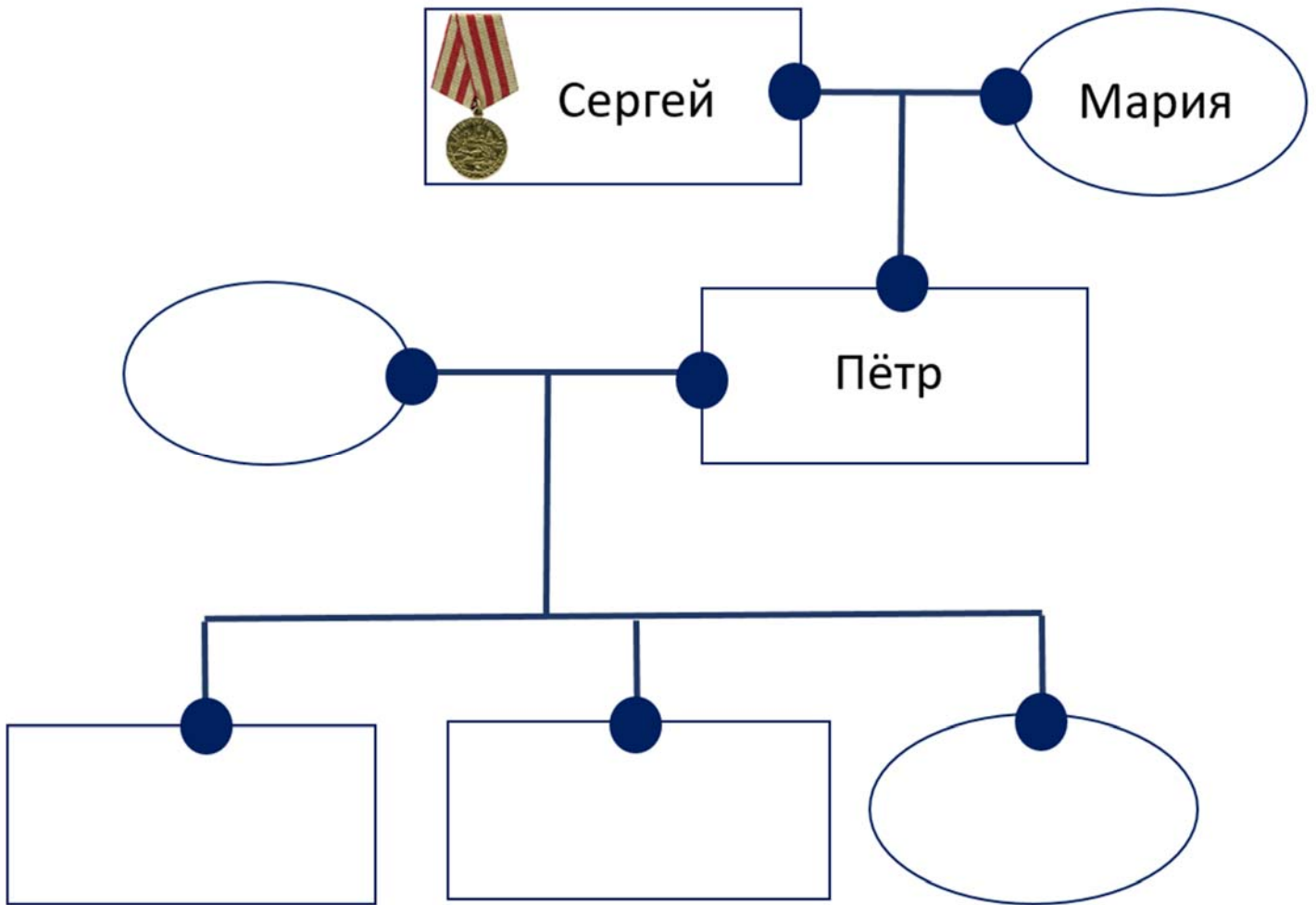
янв	февр	март	апр	май							
				9							



9

В семье Елены Алексеевны и Петра Сергеевича Ивановых трое детей: младшая дочь Анна, старшие братья-близнецы Виктор и Иван. Семья Ивановых хранит медаль «За оборону Москвы», которой был награждён отец Петра Сергеевича.

► Впишите имена в схему семьи Ивановых.



# 10

В конце июня 1941 года поэт Лебедев-Кумач опубликовал стихи. Музыку к стихам написал композитор Александров. Впервые песня прозвучала 26 июня 1941 года на Белорусском вокзале. Песня «Священная война» известна по первой строчке «Вставай, страна огромная!»

► Выпишите из текста ответы на вопросы о величественном марше, который стал гимном защиты Отечества.

1 Где впервые прозвучала песня «Священная война»?

2 Кто написал стихи и сочинил музыку к песне «Священная война»?

3 Когда впервые была исполнена песня «Священная война»?

# 11

Москвичи и гости столицы примут участие в праздничных мероприятиях, посвящённых Дню Победы. Мероприятия будут проводиться 9 мая 2020 года в исторических местах Москвы.

► Нарисуйте стрелки на циферблате для обозначения времени начала праздничных мероприятий.

**10:00** Парад на Красной площади



**15:00** Шествие «Бессмертный полк»




**22:00** Праздничный салют



12

Ко Дню Победы четвероклассники московской школы приготовили сувениры для ветеранов Великой Отечественной войны. Школьники упаковали сувениры в коробки.

► Впишите в каждую клетку таблицы число коробок с учётом их расположения.



1 2 3


1 2 3

# 13

Художник Константин Юон написал картину «Парад на Красной площади в Москве 7 ноября 1941 года». После парада защитники Отечества отправлялись на фронт.

► Выпишите номера верных утверждений об историческом параде на Красной площади.



- |   |                                                                |
|---|----------------------------------------------------------------|
| 1 | Участники парада готовы защищать столицу от врага.             |
| 2 | Участники парада готовятся к празднованию Дня Победы.          |
| 3 | Солдаты построены в шеренги, ожидая праздничный салют.         |
| 4 | После парада 7 ноября 1941 года солдаты отправлялись на фронт. |

ОТВЕТ:

